











Odszyfruj zakodowane działania i zapisz je w wyznaczonych miejscach. Kod znajdziesz w tabelce poniżej.

									
0	1	2	3	4	5	6	7	8	9

$$\text{stork} + \text{frog} =$$

$$\text{butterfly} + \text{butterfly} =$$

$$\text{frog} + \text{snail} =$$

$$\text{caterpillar} + \text{stork} =$$

$$\text{butterfly} + \text{beetle} =$$

$$\text{beetle} + \text{frog} =$$











$$\text{swallow} - \text{frog} =$$

$$\text{tulip} - \text{snail} =$$

$$\text{orchid} - \text{caterpillar} =$$

$$\text{caterpillar} - \text{stork} =$$

Odszyfruj zakodowane działania i zapisz je w wyznaczonych miejscach. Kod znajdziesz w tabelce poniżej.

									
0	1	2	3	4	5	6	7	8	9

$$\text{stork} + \text{stork} =$$

$$\text{frog} + \text{frog} =$$

$$\text{snail} + \text{butterfly} =$$

$$\text{snail} + \text{ant} =$$

$$\text{mushroom} + \text{frog} =$$

$$\text{tulip} + \text{stork} =$$











$$\text{orchid} - \text{snail} =$$

$$\text{orchid} - \text{swallow} =$$

$$\text{swallow} - \text{butterfly} =$$

$$\text{tulip} - \text{mushroom} =$$

Odszyfruj zakodowane działania i zapisz je w wyznaczonych miejscach. Kod znajdziesz w tabelce poniżej.

									
0	1	2	3	4	5	6	7	8	9

$$\text{stork} + \text{flower} =$$

$$\text{snail} + \text{snail} =$$

$$\text{frog} + \text{butterfly} =$$

$$\text{snail} + \text{swallow} =$$

$$\text{swallow} + \text{stork} =$$

$$\text{frog} + \text{flower} =$$

$$\text{orchid} - \text{butterfly} =$$

$$\text{bird} - \text{swallow} =$$

$$\text{beetle} - \text{frog} =$$

$$\text{orchid} - \text{flower} =$$